


EXAMEN - BIOLOGÍA Y GEOLOGÍA LOS HIDROSFERA				
Nombre:				
Curso:	1º ESO	Grupo:		
Fecha:				

1. Responde a las siguientes cuestiones. (____ / 1.5 puntos)

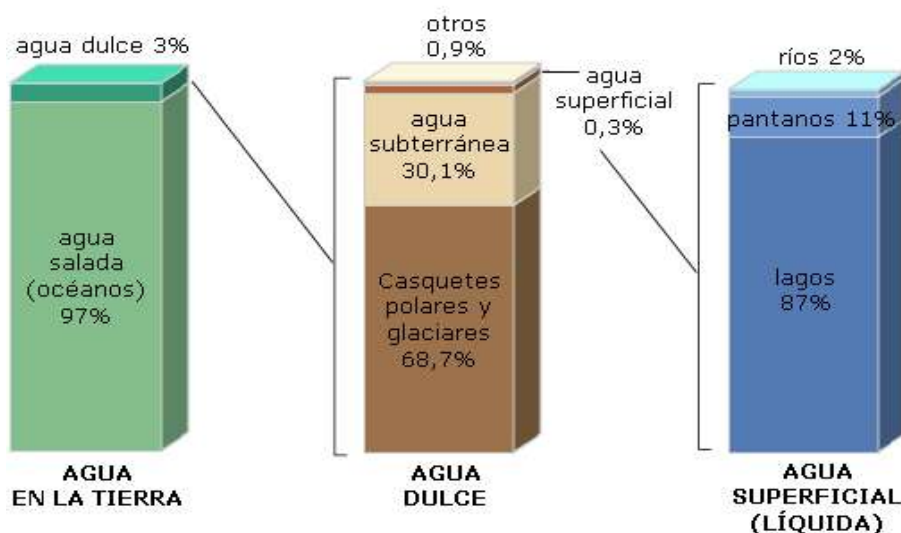
a) Explica brevemente el origen del agua en la Tierra. (____ / 0,5 puntos)

b) Escribe los tres estados del agua e indica un ejemplo de cada uno. (____ / 1 punto)

2. Relaciona cada propiedad del agua con su consecuencia. (____ / 1.5 puntos)

- a) Gran poder disolvente
 - b) Alta capacidad calorífica
 - c) Densidad del hielo menor que la del agua líquida
1. ☐ Permite que muchas sustancias se transporten en los seres vivos.
 2. ☐ Hace que el hielo flote en mares y lagos.
 3. ☐ Ayuda a regular la temperatura del planeta.

3. Observa la información y responde. (____ / 1.5 puntos)




a) Indica dónde se encuentra la mayor parte del agua del planeta.

b) ¿Qué tipo de agua es aprovechable directamente por los seres humanos?

c) Explica por qué el agua dulce es un recurso limitado.

4. Observa el esquema del ciclo del agua y responde. (____ / 2 punto)

a) Completa el esquema del ciclo del agua. (____ / 1.5 punto)



b) Explica brevemente qué ocurre en el proceso de evaporación. (____ / 0,5 puntos)

5. Responde a las siguientes cuestiones. (____ / 1,5 puntos)

a) Indica dos usos del agua por parte del ser humano.

b) Nombra una causa de contaminación del agua dulce y una del agua salada

c) Explica una consecuencia de la contaminación del agua.

6. Lee la situación y responde razonando. (____ / 2 puntos)

En una ciudad se producen periodos de sequía cada vez más frecuentes.

- a) Propón dos medidas para realizar un uso sostenible del agua.

- b) Explica por qué es importante ahorrar agua, aunque vivamos en una zona con ríos o embalses.

PUNTUACIÓN TOTAL: ____ / 10 puntos
