


| EXAMEN – GEOGRAFÍA E HISTORIA EL RELIEVE TERRESTRE | | | |
|---|--------|--------|--|
| Nombre: | | | |
| Curso: | 1º ESO | Grupo: | |
| Fecha: | | | |



1. Responde de forma breve. (____ / 1.5 puntos)

- a) Nombra las tres capas principales de la Tierra.

- b) Explica qué son las placas tectónicas.

2. Explica cómo el movimiento de las placas tectónicas puede dar lugar a la formación de montañas. (____ / 1.5 puntos)

3. Define los siguientes conceptos. (____ / 1.5 puntos)

- a) Relieve: _____

- b) Cordillera: _____

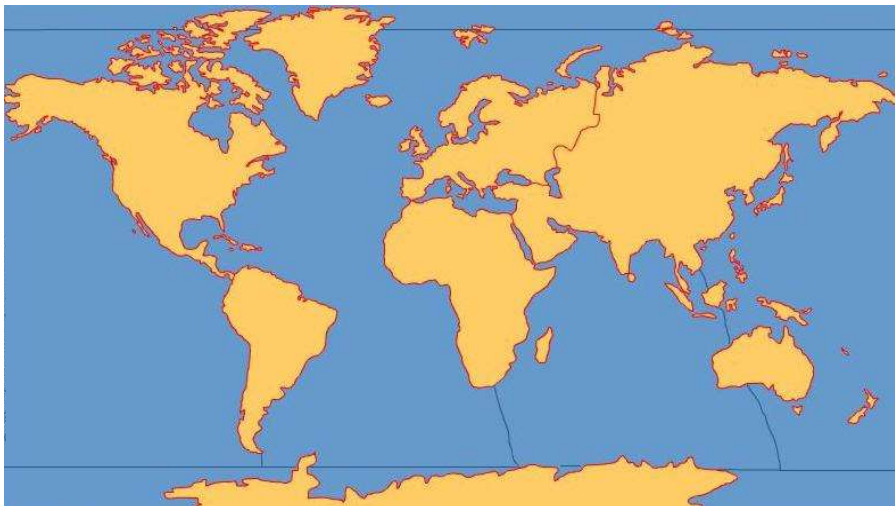
4. Relaciona cada forma del relieve con su definición. (____ / 1 punto)

- a) Montaña
- b) Llanura
- c) Meseta
- d) Valle
- e) Cabo

- 1. ☐ Terreno elevado y extenso, generalmente plano
- 2. ☐ Elevación natural del terreno
- 3. ☐ Zona baja situada entre montañas

- 4. ☐ Porción de tierra que se adentra en el mar
- 5. ☐ Terreno llano y de poca altitud

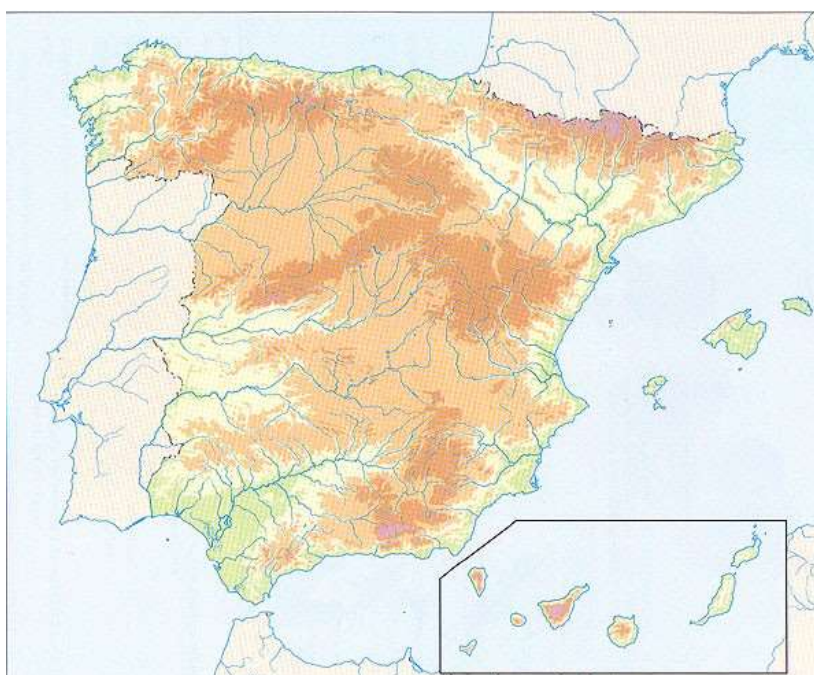
5. Observa el mapa y responde. (____ / 1.5 puntos)



a) Escribe el nombre de cinco continentes.

b) Escribe el nombre de tres océanos.

6. Observa el mapa físico de España y señala y nombra en el dos cordilleras, una meseta y dos elementos del relieve costero. (____ / 1.5 punto)



7. Lee la situación y responde razonando. (____ / 1.5 puntos)

Un alumno observa un mapa en el que aparecen acantilados, playas y plataformas continentales.

- a) Indica a qué tipo de relieve pertenece cada uno (costero o submarino). (____ / 0.5 puntos)

- b) Explica brevemente las diferencias entre el relieve continental y el costero. (____ / 1 punto)

| |
|---|
| PUNTUACIÓN TOTAL: ____ / 10 puntos |
|---|