












Nombre y apellidos:

Curso: Fecha:.....

Un sistema de numeración muy antiguo

A lo largo de la historia las distintas culturas han usado diferentes sistemas de numeración.

¿Sabías que los griegos, hacia el año 600 a. C., usaban un sistema llamado ático? En este sistema, que era parecido al romano, utilizaban estos símbolos:

								
1	2	3	4	5 penta	10 déka	100 hekatón	1000 khiloi	10 000 myriás
								
				50	500			

Observa que, a excepción de los cuatro primeros, para el resto utilizaban las primeras letras de las palabras que los designan.

1. ¿Eres capaz de escribir el número 3737 en el sistema ático? Considera que es un sistema aditivo.

2. Busca en Internet algo de información sobre el sistema que idearon los egipcios y practica con él escribiendo números como el anterior, 3737.